

PREFEITURA MUNICIPAL DE JEQUIÉ - EDITAL Nº 01/2018 - PROCESSO DE REGIME ESPECIAL DE DIREITO ADMINISTRATIVO.

PROVA OBJETIVA.

CARGO: TÉCNICO EM SEGURANÇA DO TRABALHO.

Leia atentamente as INSTRUÇÕES:

1. Não é permitido ao candidato realizar a prova usando óculos escuros (exceto para correção visual ou fotofobia, desde que informe no ato da inscrição) ou portando: aparelhos eletrônicos, qualquer tipo de relógio, chaves, acessórios que cubram o rosto, a cabeça, ou parte desta.
2. Caso o candidato porte algum dos itens mencionados anteriormente, antes do início das provas deverá acomodá-lo(s) EMBAIXO DE SUA CADEIRA, sob sua guarda e responsabilidade, mantendo o(s) aparelho(s) eletrônico(s) desligado(s), sob pena de ser eliminado deste Concurso Público.
3. Durante todo o tempo em que permanecer no local onde estará ocorrendo o Concurso Público, o candidato deverá manter o celular desligado, sendo permitido ligá-lo somente após ultrapassar o portão de saída do prédio, sob pena de ser eliminado deste Concurso Público.
4. Confira se sua prova tem 30 questões, cada qual 4 alternativas, veja se o cargo para o qual se inscreveu está correto.
5. Confira seus dados no cartão-resposta (nome, número de inscrição e o cargo para o qual se inscreveu) e **ASSINE** o mesmo.
6. Preencha toda a área do cartão-resposta correspondente à alternativa de sua escolha, com caneta esferográfica (tinta azul ou preta), sem ultrapassar as bordas. As marcações duplas, ou rasuradas, com corretivo, ou marcadas diferentemente do modelo estabelecido no cartão-resposta poderão ser anuladas.
7. Observe as orientações apresentadas no cartão-resposta. O mesmo não será substituído, salvo se contiver erro de impressão.
8. Aguarde a autorização do Fiscal para abrir o caderno de provas. Ao receber a ordem dele, confira o caderno de provas com muita atenção. Nenhuma reclamação sobre o total de questões, ou falha de impressão, será aceita depois de iniciada a prova.
9. Cabe apenas ao candidato a interpretação das questões, o fiscal não poderá fazer nenhuma interferência.
10. A prova será realizada com duração máxima de **3 (três) horas**, incluído o tempo para leitura das instruções, realização da Prova Objetiva e o preenchimento do cartão-resposta.
11. O Candidato poderá se retirar do local da prova somente 1 h (uma hora) após seu início, levando seu caderno de prova.
12. Ao término da prova, o candidato deverá entregar ao fiscal de sala o cartão-resposta preenchido e assinado.
13. Os **3 (três)** candidatos, que terminarem a prova por último, deverão permanecer na sala, e só poderão sair juntos após o fechamento do envelope, contendo os cartões-resposta dos candidatos presentes e ausentes, e assinarem no lacre do referido envelope, atestando que este foi devidamente lacrado.
14. Ao término da prova, o candidato deverá se retirar do recinto onde está ocorrendo a mesma, não lhe sendo mais permitido o uso do banheiro e bebedouro.
15. Não será permitido ao candidato fumar nas dependências onde está ocorrendo o concurso.

BOA PROVA!

LÍNGUA PORTUGUESA.

Leia o texto e responda às próximas duas questões.

Mãos dadas (Carlos Drummond de Andrade)

Não serei o poeta de um mundo caduco.
Também não cantarei o mundo futuro.
Estou preso à vida e olho meus companheiros.
Estão taciturnos mas nutrem grandes esperanças.
Entre eles, considero a enorme realidade.
O presente é tão grande, não nos afastemos.
Não nos afastemos muito, vamos de mãos dadas.

Não serei o cantor de uma mulher, de uma história,
Não direi os suspiros ao anoitecer, a paisagem vista da janela,
Não distribuirei entorpecentes ou cartas de suicida,
Não fugirei para as ilhas, nem serei raptado por serafins.
O tempo é a minha matéria, o tempo presente, os homens presentes,
A vida presente.

01. De acordo com o poema, assinale a alternativa incorreta.

- a) O tema da poesia é o compromisso do poeta com o seu tempo e com seus contemporâneos.
- b) Os versos "... olho meus companheiros" e "não nos afastemos muito, vamos de mãos dadas" expressam o comportamento do eu lírico com o coletivo, com o engajamento político e social.
- c) Na segunda estrofe do poema, o eu lírico afirma que a poesia desse momento histórico deve tratar de temas sentimentais e amorosos.
- d) Os versos da primeira estrofe mostram que o desejo do poeta é que sua poesia una os homens e transforme a vida presente.

02. Quanto aos encontros vocálicos, as palavras do poema "poeta / realidade / anoitecer / história" são respectivamente:

- a) Hiato / hiato / ditongo / ditongo.
- b) Ditongo / ditongo / hiato / hiato.
- c) Hiato / ditongo / ditongo / hiato.
- d) Ditongo / hiato / hiato / ditongo.

03. Relacione as duas colunas de acordo com a característica e o período literário e assinale a alternativa correta:

- | | |
|-------------------|---|
| A) Barroco. | 1 - Regionalismo. |
| B) Arcadismo. | 2 - Oposições. |
| C) Simbolismo. | 3 - Bucolismo. |
| D) Romantismo | 4 - Busca da perfeição poética. |
| E) Parnasianismo. | 5 - Condoreirismo. |
| F) Modernismo. | 6 - Introspecção, mergulho nas profundezas do eu. |

- a) A (2) – B (3) – C (6) – D (5) – E (4) – F (1).
- b) A (2) – B (3) – C (1) – D (6) – E (5) – F (4).
- c) A (2) – B (3) – C (5) – D (6) – E (4) – F (1).
- d) A (1) – B (3) – C (2) – D (4) – E (5) – F (6).

04. Na tirinha abaixo, nas orações "Acho que o mundo é redondo." e "Vou levar você a um oculista.", temos:

Hagar



Dik Browne



Folha de S. Paulo

Fonte: <https://www.google.com.br>.

- a) Sujeito expreso e sujeito oculto (ou elíptico).
- b) Sujeito oculto (ou elíptico) e sujeito oculto (ou elíptico).
- c) Sujeito simples e sujeito oculto (ou elíptico).
- d) Sujeito oculto (ou elíptico) e sujeito indeterminado.

05. Quanto à regência verbal, assinale a alternativa incorreta.

- a) Os apreciadores de vinho, aspiram o ar das barricas e se inebriam.
- b) Todos aspiram à paz.
- c) Nós lhe chamamos para conversar.
- d) Queremos bem a eles.

06. Quanto ao uso do sinal de crase, atribua verdadeiro (V) ou falso (F) aos itens e assinale a alternativa correta:

- () Ele se refere àquilo.
 - () Perguntei à senhora onde ela morava.
 - () Usamos sapatos à Luís XV.
 - () À noite fomos ao cinema.
 - () Fui à Ouro Preto dos Inconfidentes.
 - () Saí à uma hora.
 - () Retornamos à mesma estrada.
- a) V – V – F – V – F – F – F.
 - b) V – V – V – V – F – F – V.
 - c) V – V – V – V – F – F – F.
 - d) V – V – V – V – V – V – V.



07.

Fonte: <https://www.google.com.br>.

No cartaz, os verbos “disque”, “defenda” e “denuncie” estão conjugados no:

- a) Presente do Indicativo / Presente do Indicativo / Presente do Indicativo.
- b) Imperativo Afirmativo / Imperativo Afirmativo / Imperativo Afirmativo.
- c) Imperativo Negativo / Imperativo Negativo / Imperativo Negativo.
- d) Pretérito Perfeito / Pretérito Perfeito / Pretérito Perfeito.

08. Leia os itens quanto a não sinalização de crase e assinale a alternativa verdadeira:

- I- Ele anda a pé.
- II- Ela vive a falar asneiras.
- III- Não disse nada a ela.
- IV- Ele venceu de ponta a ponta.
- V- Não avisou a pessoa a cujos documentos encontrou.
- VI- Ele assistiu aquele espetáculo.

- a) Apenas I, II, III, IV e VI estão corretos.
- b) Apenas I, II, IV, V e VI estão corretos.
- c) Apenas I, II, III, IV e V estão corretos.
- d) Todos estão corretos.

09. Aponte a alternativa onde temos uma oração subordinada adjetiva restritiva.

- a) A arte que agrada a todos é muito cara.
- b) As exposições de arte, que encantam os apreciadores, deveriam ser mais divulgadas.
- c) A obra de Portinari, desafiando o tempo, continua atual.
- d) Ele tem amor às plantas, que cultiva com carinho.

10. Leia os fragmentos dos textos de José de Alencar e marque a alternativa incorreta, quanto ao uso, ou não, da vírgula.

- a) Quem te ensinou, guerreiro branco, a linguagem de meus irmãos?
- b) Iracema, a virgem dos lábios de mel, que tinha os olhos mais negros que a asa da graúna.
- c) Um dia ao pino do Sol, ela repousava em um claro da floresta.

d) Foi rápido, como o olhar, o gesto de Iracema.

MATEMÁTICA.

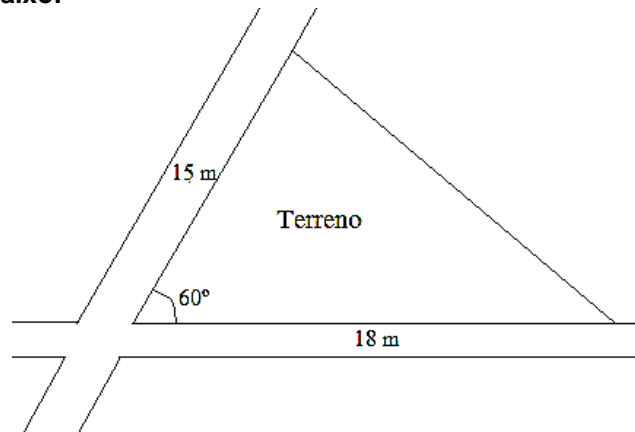
11. Sabendo que $f(x+2) = 3x - 1$, o valor de $3f(2) - f(1)$ é:

- a) -4
- b) -1
- c) 1
- d) 3

12. Sabendo que o número complexo $w = 6 + 2i$ é a soma do número complexo z com o dobro de seu conjugado \bar{z} , o módulo de z é:

- a) $2\sqrt{2}$.
- b) $\sqrt{10}$.
- c) 4.
- d) $2\sqrt{10}$.

13. Maurício possui um terreno triangular em uma determinada esquina de uma cidade no interior da Bahia, conforme a figura abaixo:



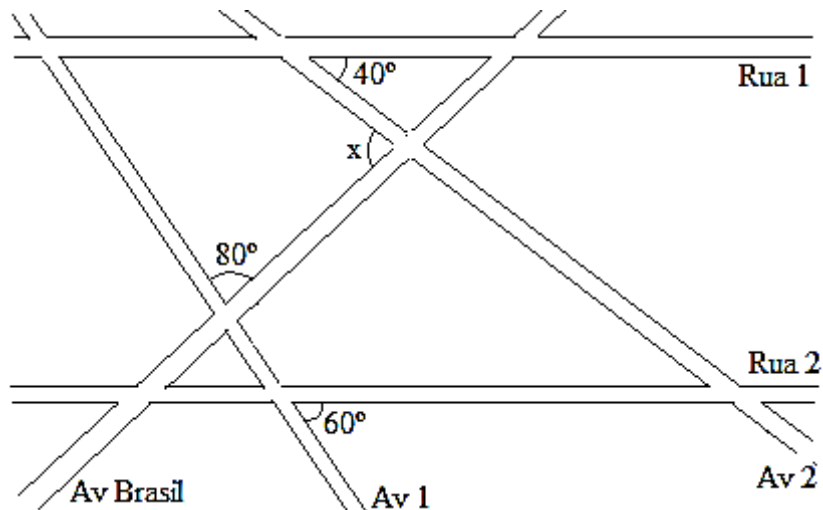
O comprimento do muro que Maurício deve construir para cercar todo o seu terreno é:

- a) 49 m.
- b) $33 + \sqrt{279}$ m.
- c) 50 m.
- d) $33 + \sqrt{292}$ m.

14. Considere a função modular $f(x) = |x^2 - 6x + 5| - 4$. O número de raízes de $f(x)$ é:

- a) 1.
- b) 2.
- c) 3.
- d) 4.

15. O mapa de uma região de uma determinada cidade é dado pela figura abaixo:



Sabe-se que, nesse trecho, as ruas e as avenidas são retilíneas, as Ruas 1 e 2 são paralelas, o menor ângulo entre a Rua 1 e a Avenida 2 é 40° , o menor ângulo entre a Avenida 1 e a Avenida Brasil é 80° e o menor ângulo entre a Rua 2 e a Avenida 1 é 60° . O menor ângulo x entre a Avenida Brasil e a Avenida 2 é:


- a) 50
- b) 60
- c) 70
- d) 80

CONHECIMENTOS GERAIS.

16. Marque a alternativa incorreta, conforme as informações publicadas no site <https://cidades.ibge.gov.br/brasil/ba/jequie/historico> e acessada em 07/08/2018.

- a) Em 1985, foi criado o distrito de Monte Branco (ex-povoado) e anexado ao município de Jequié.
- b) Em 1961, foi criado o município de Oriente Novo, desmembro do município de Jequié.
- c) O Distrito de Jequié foi criado em 1880, subordinado ao município de Maracás.
- d) Em 1990, foi criado o distrito de Florestal (ex-povoado) e anexado ao município de Jequié.

17. Analise as bandeiras a seguir e aponte a que pertence ao estado da Bahia.



18. O Estado da Bahia não faz divisa com qual dos estados a seguir?

- a) Alagoas.
- b) Tocantins.
- c) Espírito Santo.
- d) Pernambuco.

19. Tartaruga marinha é achada morta em Ilhéus e ONG aponta outros 12 casos em uma semana na região no sul da BA.



(Foto: Jamile Borges/Arquivo Pessoal)

Fonte: G1 BA, acessado em 07/08/2018.

Essa notícia informa, exceto:

- a) Segundo o projeto A-Mar, maior parte dos casos ocorreu na cidade de Uruçuca, onde os animais morreram presos em redes de pesca.
- b) Uma tartaruga marinha foi encontrada morta, na manhã desta terça-feira (7), em uma praia de Ilhéus, vítima de intoxicação por poluição.
- c) No litoral de Serra Grande, distrito de Uruçuca, foram registrados 12 casos de tartarugas mortas nos últimos sete dias.
- d) Na região de Uruçuca, há uma área de alimentação das tartarugas da espécie verde.

20. Em 11/05/2018, foi publicada no site <http://www.mdh.gov.br/todas-as-noticias/2018/maio/programa-de-protecao-a-criancas-e-adolescentes-ameaçados-de-morte-e-fortalecido> a seguinte informação: “Programa de Proteção a Crianças e Adolescentes Ameaçados de Morte é fortalecido” pelo Decreto nº 9.371, de 11/5/2018, que reformula as regras de funcionamento do Programa de Proteção a Crianças e Adolescentes Ameaçados de Morte (PPCAAM).

Em conformidade com esse Decreto, atribua (V) verdadeiro ou (F) falso aos itens e aponte a alternativa correta:

- () As medidas e as providências relacionadas com o PPCAAM serão adotadas, executadas e mantidas em sigilo pelos profissionais envolvidos.
 - () O PPCAAM tem por finalidade proteger, em conformidade com o disposto na Lei nº 8.069, de 13 de julho de 1990, crianças e adolescentes expostos a grave e iminente ameaça de morte, quando esgotados os meios convencionais, por meio da prevenção ou da repressão da ameaça.
 - () As ações do PPCAAM poderão ser estendidas a jovens com até vinte e um anos, se egressos do sistema socioeducativo.
 - () A proteção poderá ser estendida aos pais ou responsáveis, ao cônjuge ou companheiro, aos ascendentes, descendentes, dependentes, colaterais e aos que tenham, comprovadamente, convivência habitual com o ameaçado, a fim de preservar a convivência familiar.
- a) V – F – V – V.
 - b) V – V – F – V.
 - c) F – V – V – V.
 - d) V – V – V – V.

CONHECIMENTOS ESPECÍFICOS.

21. A Função Segurança, ou simplesmente Segurança, pode ser definida como:

- a) Conjunto de medidas que são adotadas visando melhorar a relação interpessoal no ambiente de trabalho.
- b) Conjunto de medidas definidas exclusivamente por normas e leis.
- c) Conjunto de ações exercidas com o intuito de reduzir danos e perdas provocados por agentes agressivos.
- d) Relaciona-se à gestão dos danos provocados por acidentes.

22. São considerados Sistemas de Emergência contra incêndio, exceto:

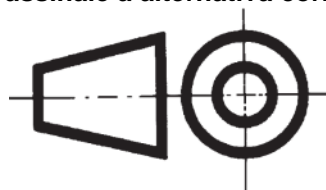
- a) Alarme de incêndio.
- b) Detector de fumaça.
- c) Sprinklers.
- d) Abafamento.

23. Dependendo da área de atuação, a empresa deve fornecer e verificar a correta utilização dos Equipamentos de Proteção. Em relação aos EPIs e EPCs, assinale a alternativa correta.

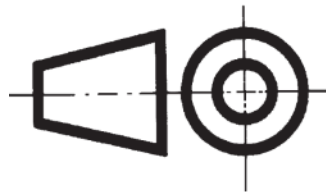
- a) De acordo com a NR-06 do Ministério do Trabalho e Emprego, a empresa é obrigada a fornecer aos empregados, gratuitamente, o EPI adequado ao risco, em perfeito estado de conservação e funcionamento.
- b) Os EPCs estão relacionados aos utensílios característicos para cada trabalhador e são utilizados para evitar danos à saúde e à vida desse funcionário, tais como: óculos, capacetes, botas, etc.
- c) Os EPIs são itens fixos ou móveis, instalados no local de trabalho para a proteção indireta dos trabalhadores da empresa, tais como corrimão, exaustores, alarmes, etc.
- d) A utilização de EPIs e EPCs é facultada ao trabalhador quanto a sua opção pelo uso desses equipamentos.

24. No Brasil, as normas de Desenho Técnico são editadas pela Associação Brasileira de Normas Técnicas (ABNT). A norma NBR 10067 (Princípios gerais de representação em desenho técnico) indica os métodos de projeção ortográfica. Sobre os métodos, assinale a alternativa correta.

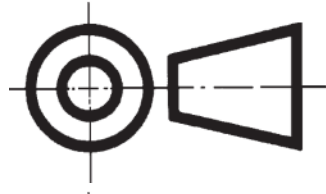
a) 1º Diedro. Símbolo indicado no desenho:



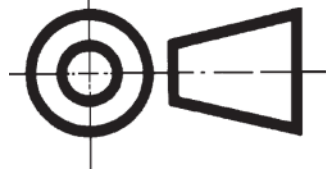
b) 3º Diedro. Símbolo indicado no desenho:



c) 1º Diedro. Símbolo indicado no desenho:



d) 2º Diedro. Símbolo indicado no desenho:



25. Para fins de aplicação das Normas Regulamentadoras – NR, assinale a alternativa correta.

- a) Empregado: a pessoa física que presta serviços de natureza apenas eventual ao empregador, sob a dependência deste e mediante salário.
- b) Empresa: o estabelecimento ou o conjunto de estabelecimentos, canteiros de obra, frente de trabalho, locais de trabalho e outras, constituindo a organização de que se utiliza o empregador para atingir seus objetivos.
- c) Setor de serviço: cada uma das unidades da empresa, funcionando em lugares diferentes, tais como: fábrica, refinaria, usina, escritório, loja, oficina, depósito, laboratório.
- d) Local de trabalho: a menor unidade administrativa ou operacional compreendida no mesmo estabelecimento.

26. A Comissão Interna de Prevenção de Acidentes - CIPA - tem como objetivo a prevenção de acidentes e doenças decorrentes do trabalho, de modo a tornar compatível permanentemente o trabalho com a preservação da vida e a promoção da saúde do trabalhador. Quanto à CIPA, avalie as afirmativas:

I- Cabe ao empregador proporcionar aos membros da CIPA os meios necessários ao desempenho de suas atribuições, garantindo tempo suficiente para a realização das tarefas constantes do plano de trabalho.

II- A CIPA terá reuniões ordinárias mensais, de acordo com o calendário preestabelecido fora do expediente normal da empresa e em local apropriado.

III- No caso de afastamento definitivo do presidente, haverá eleição que indicará o substituto, em dois dias úteis, preferencialmente entre os membros da CIPA.

Sobre as afirmativas, assinale a alternativa correta.

- a) Somente I e II estão corretas.
- b) Somente I e III estão corretas.
- c) Somente a I está correta.
- d) Todas as afirmativas estão corretas.

27. Sobre a SIPAT, assinale a alternativa correta.

- a) É uma das atividades obrigatórias para todas as Comissões Internas de Prevenção de Acidentes do Trabalho, devendo ser realizada com frequência bimestral.
- b) Trata-se de uma atividade voltada à prevenção, tanto no que diz respeito a acidentes do trabalho quanto a doenças ocupacionais com duração de no máximo dois dias.
- c) SIPAT significa Semana Interna de Prevenção a Acidentes de Trabalho.
- d) É atribuição exclusiva do SESMET promover a SIPAT.

28. Sobre os conceitos empregados na NR 10 – Segurança em Instalações e Serviços em Eletricidade, assinale a alternativa correta.

- a) Alta Tensão (AT): tensão superior a 100 volts em corrente alternada ou 150 volts em corrente contínua, entre fases ou entre fase e terra.
- b) Equipamento Segregado: dispositivo, sistema, ou meio, fixo ou móvel de abrangência coletiva, destinado a preservar a integridade física e a saúde dos trabalhadores, usuários e terceiros.
- c) Isolamento Elétrico: entorno de parte condutora energizada, não segregada, acessível inclusive acidentalmente, de dimensões estabelecidas de acordo com o nível de tensão, cuja aproximação só é permitida a profissionais autorizados e com a adoção de técnicas e instrumentos apropriados de trabalho.
- d) Baixa Tensão (BT): tensão superior a 50 volts em corrente alternada ou 120 volts em corrente contínua e igual ou inferior a 1000 volts em corrente alternada ou 1500 volts em corrente contínua, entre fases ou entre fase e terra.

29. Sobre a NR-13 Caldeiras, Vasos de Pressão e Tubulação, assinale a alternativa correta.

- a) Todo operador de caldeira deve cumprir um estágio prático, na operação da própria caldeira que irá operar, o qual deverá ser supervisionado, documentado e ter duração mínima de 20 (vinte) horas em caldeiras da categoria A ou 10 (dez) horas em caldeiras da categoria B.
- b) Caldeiras a vapor são equipamentos destinados a produzir e acumular vapor sob pressão superior à atmosférica, utilizando qualquer fonte de energia, projetados conforme códigos pertinentes, excetuando-se refratedores e similares.
- c) O teste de estanqueidade é um tipo de teste de pressão com fluido incompressível, executado com o objetivo de avaliar a integridade estrutural dos equipamentos e o rearranjo de possíveis tensões residuais, de acordo com o código de projeto.
- d) O teste hidrostático – TH é o tipo de teste de pressão realizado com a finalidade de atestar a capacidade de retenção de fluido, sem vazamentos, em equipamentos, tubulações e suas conexões, antes de sua entrada ou reentrada em operação.

30. Sobre a Lei Federal nº 8.142/90, assinale a alternativa correta.

- a) A Conferência de Saúde reunir-se-á a cada quatro meses com a representação dos vários segmentos sociais, para avaliar a situação de saúde e propor as diretrizes para a formulação da política de saúde nos níveis correspondentes, convocada pelo Poder Executivo ou, extraordinariamente, por esta ou pelo Conselho de Saúde.
- b) O Conselho Nacional de Secretários de Saúde (Conass) e o Conselho Nacional de Secretários Municipais de Saúde (Conasems) são proibidos de ter representação no Conselho Nacional de Saúde.
- c) Essa lei dispõe sobre a participação da comunidade na gestão do Sistema Único de Saúde (SUS) e sobre as transferências intergovernamentais de recursos financeiros na área da saúde e dá outras providências.
- d) Os recursos do Fundo Nacional de Saúde (FNS) serão alocados apenas em condições emergenciais.

RASCUNHO.